



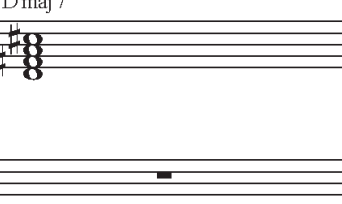
LÖSUNG DER MUSTERKLAUSUR

ALLGEMEINE MUSIKLEHRE POPULARMUSIK

1. Aufgabe: Ergänzen Sie zu vollständigen Akkorden:
(der gegebene ist der tiefste Ton)

Dm7	B♭/A♭	F♯o7
		


2. Aufgabe: Benennen Sie folgende Akkorde:

G ¹	E7b9	Dmaj7
		

3. Aufgabe: Notieren Sie über das Notensystem die Akkordsymbole eines Turnarounds in __G-Dur__:

G maj7	B m7	A m7	D7
			

4. Aufgabe: Analysieren Sie den folgenden Ausschnitt eines Jazz-Standards ("Day Dream"), indem Sie mit Hilfe von Stufensymbolen Zusammenhänge herstellen!

I F maj7	V/IV F7	IV (Blues) B♭7	V/vi A7	vi Dm7	V/iv F7	iv B♭m6	V C7
							
i F m6	ii G m7	V C7	C13sus	subV/V D♭13	V C7		
