

## Arbeitsblatt 1

### Geometrische Formen im Alltag entdecken - Blue-Bot

#### Merke:





**Rechteck:** 4 Kanten, 4 Ecken, die gegenüberliegenden Seiten sind gleich lang








**Quadrat:** 4 Kanten, 4 Ecken, Seiten → ALLE Seiten sind gleich lang  
(„besonderes Rechteck“)

**Kreis:** keine Kanten, keine Ecken, rund

**Dreieck:** 3 Ecken, 3 Kanten

#### Aufgabe 1:

|           | Gegenstand                                                                          | Name/Mathematischer Begriff |
|-----------|-------------------------------------------------------------------------------------|-----------------------------|
| Beispiel: |  | Kreis                       |
| 1.        |  |                             |
| 2.        |  |                             |
| 3.        |  |                             |

|     |                                                                                     |  |
|-----|-------------------------------------------------------------------------------------|--|
| 4.  |    |  |
| 5.  |    |  |
| 6.  |    |  |
| 7.  |   |  |
| 8.  |  |  |
| 9.  |  |  |
| 10. |  |  |

|     |                                                                                     |  |
|-----|-------------------------------------------------------------------------------------|--|
| 11. |    |  |
| 12. |    |  |
| 13. |    |  |
| 14. |   |  |
| 15. |  |  |
| 16. |  |  |